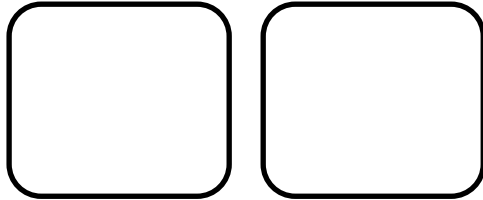


# TOCARAM A CAMPAINHA

Utilize 2 folhas de papel e a quantidade de tampinhas indicadas para descobrir se as divisões têm resto ou não:

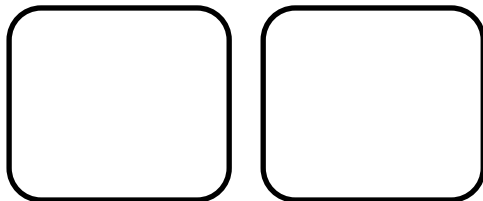
**10 tampinhas:** ..... em cada folha e resto .....

Desenho:



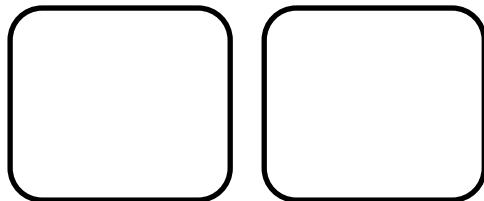
**11 tampinhas:** ..... em cada folha e resto .....

Desenho:



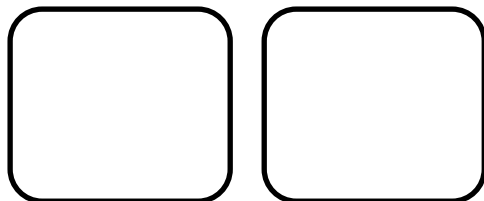
**12 tampinhas:** ..... em cada folha e resto .....

Desenho:



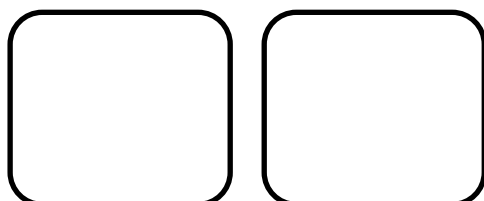
**13 tampinhas:** ..... em cada folha e resto .....

Desenho:



**14 tampinhas:** ..... em cada folha e resto .....

Desenho:



**15 tampinhas:** ..... em cada folha e resto .....

Desenho:

**16 tampinhas:** ..... em cada folha e resto .....

Desenho:

**17 tampinhas:** ..... em cada folha e resto .....

Desenho:

**18 tampinhas:** ..... em cada folha e resto .....

Desenho:

**19 tampinhas:** ..... em cada folha e resto .....

Desenho:

**20 tampinhas:** ..... em cada folha e resto .....

Desenho:

**O que se pode concluir?** .....